


Β΄ Δημοτικού: Για μαθητές Β΄ Δημοτικού

Ερώτηση 3 πόντων (2021_02)

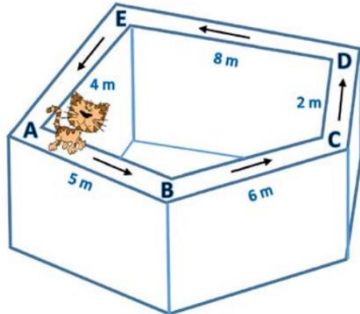
Η εικόνα δείχνει 2 μανιτάρια. Ποια είναι η διαφορά μεταξύ του ύψους των 2 μανιταριών;



- (A) 4 (B) 5 (C) 6 (D) 11 (E) 17

Ερώτηση 4 πόντων (2021_10)

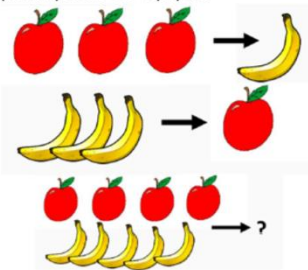
Η Ρόουζ (η γάτα) περπατάει κατά μήκος του τοίχου. Ξεκινά από το σημείο Β και ακολουθεί την κατεύθυνση των βελών που φαίνονται στην εικόνα. Η γάτα περπατά συνολικά 20 μέτρα. Πού καταλήγει;



- (A) A (B) B (C) C (D) D (E) E

Ερώτηση 5 πόντων (2021_18)

Κάθε φορά που η μάγισσα έχει 3 μήλα τα μετατρέπει σε 1 μπανάνα. Κάθε φορά που έχει 3 μπανάνες τις μετατρέπει σε 1 μήλο.



Με τι θα καταλήξει αν ξεκινήσει με 4 μήλα και 5 μπανάνες;

- (A)  (B)  (C)  (D)  (E) 