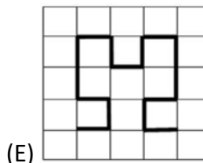
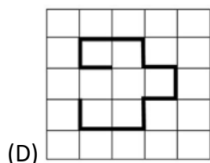
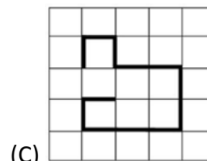
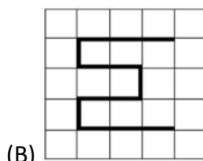
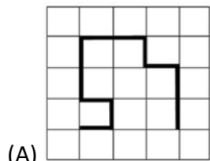


Β΄ Δημοτικού: Για μαθητές Β΄ Δημοτικού

Ερώτηση 3 πόντων (2021_03)

Ποια διαδρομή είναι η μεγαλύτερη;



Ερώτηση 4 πόντων (2021_11)

Η Τζούλια έχει δύο γλάστρες με λουλούδια όπως φαίνεται πιο κάτω. Αφήνει τα λουλούδια ακριβώς όπου βρίσκονται. Αγοράζει περισσότερα λουλούδια έτσι ώστε κάθε γλάστρα να έχει τον ίδιο αριθμό από κάθε είδος λουλουδιού. Ποιος είναι ο μικρότερος αριθμός λουλουδιών που χρειάζεται να αγοράσει;



(A) 2



(B) 4


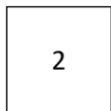
(C) 6

(D) 8

(E) 10

Ερώτηση 5 πόντων (2021_19)

Οι κάρτες που φαίνονται πιο κάτω τοποθετούνται σε δύο κουτιά.



Το άθροισμα των αριθμών σε κάθε κουτί είναι το ίδιο. Ποιος αριθμός κάρτας πρέπει να υπάρχει στο κουτί με την κάρτα με αριθμό 4;

(A) μόνο το 3 (B) μόνο το 5 (C) μόνο το 6 (D) μόνο το 5 ή το 6 (E) αδύνατον να το βρω