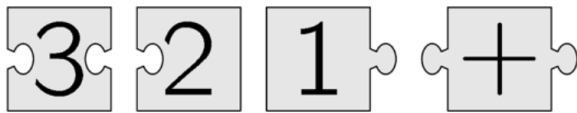


Επίπεδο 1: Για μαθητές Γ' και Δ' Δημοτικού

Ερώτηση 3 πόντων (2021_03)

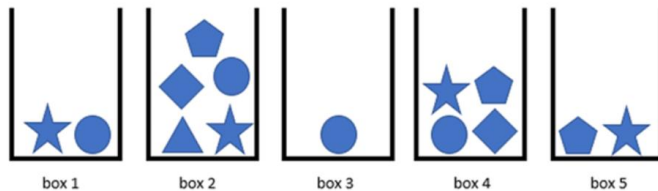
Όταν τοποθετήσετε σωστά μαζί τα 4 κομμάτια του παζλ, σχηματίζουν ένα ορθογώνιο με έναν μαθηματικό υπολογισμό πάνω του. Ποιο είναι το αποτέλεσμα αυτού του υπολογισμού;



- (A) 6 (B) 15 (C) 18 (D) 24 (E) 33

Ερώτηση 4 πόντων (2021_11)

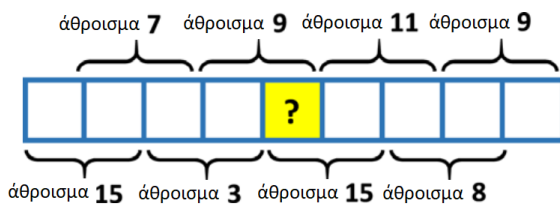
Η Σοφία θέλει να διαλέξει πέντε διαφορετικά σχήματα από τα κουτιά. Μπορεί να επιλέξει μόνο ένα σχήμα από κάθε κουτί. Ποιο σχήμα πρέπει να διαλέξει από το κουτί 4;



- (A)  (B)  (C)  (D)  (E) 

Ερώτηση 5 πόντων (2021_19)

Οι αριθμοί 1 έως 9 τοποθετούνται στα τετράγωνα που εμφανίζονται με έναν αριθμό σε κάθε τετράγωνο. Τα αθροίσματα δύο γειτονικών αριθμών εμφανίζονται πιο κάτω. Ποιος αριθμός τοποθετείται στο σκιασμένο τετράγωνο με το σύμβολο ?



- (A) 4 (B) 5 (C) 6 (D) 7 (E) 8

