

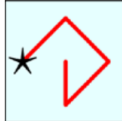
Επίπεδο 2: Για μαθητές Ε΄ και ΣΤ΄ Δημοτικού

Ερώτηση 3 πόντων (2021_03)

Στο τετράγωνο μπορείτε να δείτε τα ψηφία από το 1 έως το 9.

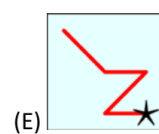
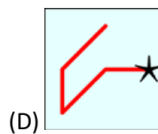
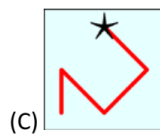
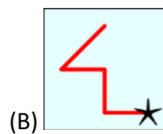
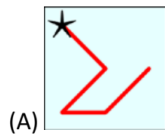
1	2	3
4	5	6
7	8	9

Ένας αριθμός δημιουργείται ξεκινώντας από το αστέρι, ακολουθώντας τη γραμμή και γράφοντας τα ψηφία από όπου περνά η γραμμή.



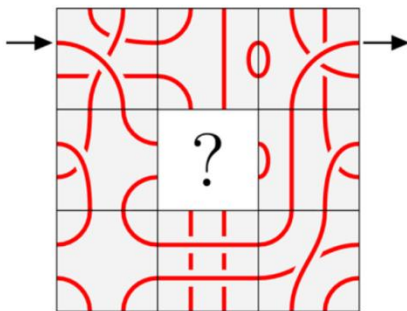
Για παράδειγμα, η γραμμή που εμφανίζεται αντιπροσωπεύει τον αριθμό 42685.

Ποια από τις παρακάτω γραμμές αντιπροσωπεύει τον μεγαλύτερο αριθμό;

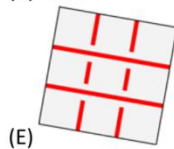
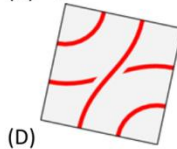
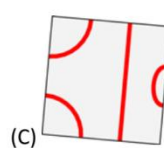
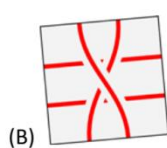
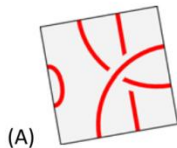


Ερώτηση 4 πόντων (2021_13)

Η Ρόζα θέλει να ξεκινήσει από το βέλος, να ακολουθήσει τη γραμμή και να βγει στο άλλο βέλος.




Ποιο κομμάτι ΔΕΝ είναι δυνατό να τοποθετηθεί στη μέση στη θέση ? για να τα καταφέρει;



Ερώτηση 5 πόντων (2021 23)

Η εικόνα δείχνει τρία γρανάζια με ένα μαύρο δόντι.



Ποια εικόνα δείχνει τη σωστή θέση των μαύρων δοντιών αφού το μικρό γρανάζι γυρίσει μια πλήρη στροφή δεξιόστροφα;

